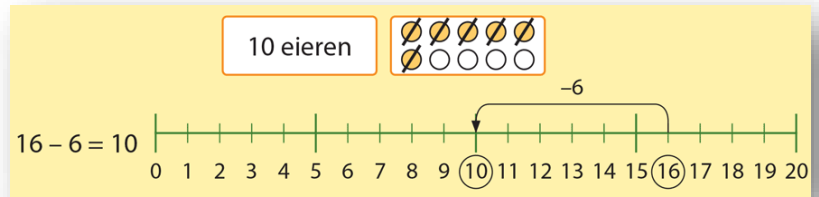
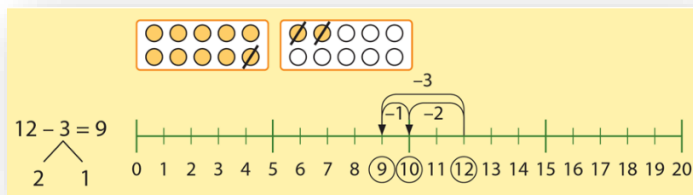


Mijn rekendoelen voor blok 6 van groep 3.

Ik kan rekenen naar een tiental:



Ik kan aftrekken over het 10-tal:



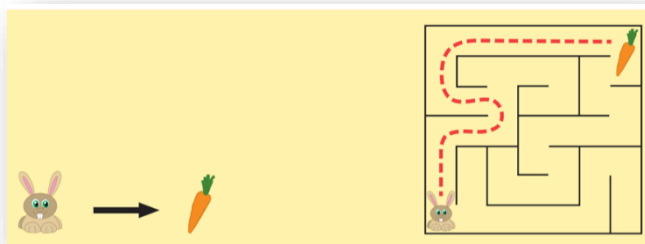
Ik kan de aftreksom maken uit een verhaaltje:

Ik kan een bepaalde route kiezen en lopen:

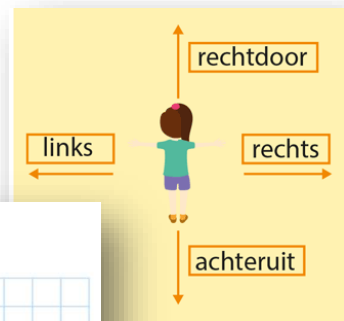
schrijf de som op.
hoeveel geld is er over?

€11 - € 3 = € 8 over

€14 - € 6 = € 8 over



Ik weet wat links en rechts is:



Ik kan een route bepalen en tekenen:

vul in en kies.
hoe komt het konijn bij het voer?

2 stappen • rechtdoor
 1 stappen • achteruit
 1 stappen • naar links
 1 stappen • naar rechts

begin

eind

→ = 1 stap naar rechts
 ← = 1 stap naar links
 ↑ = 1 stap naar boven
 ↓ = 1 stap naar beneden

teken de route.
begin bij de stip.

teken de route.
begin bij de stip.

Mijn rekendoelen voor blok 6 van groep 3.

Ik kan ook een route bepalen met behulp van blokjes:

tel en vul in.
hoe ver is het naar elk dier?

van  naar 
= 17 hokjes

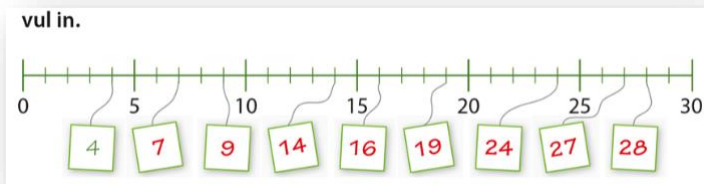
van  naar 
= hokjes

van  naar 
= hokjes

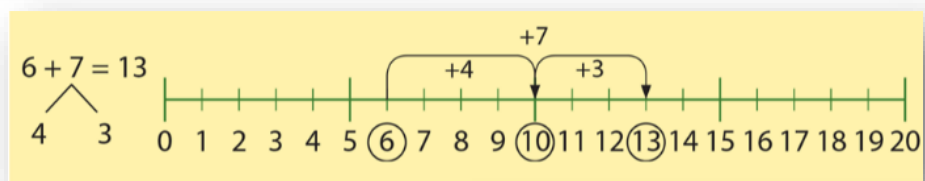
van  naar 
= hokjes



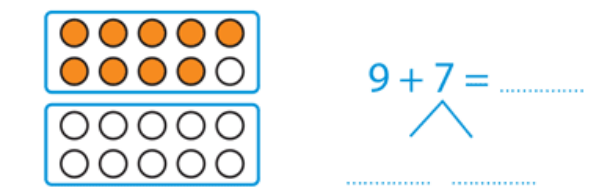
Ik kan getallen plaatsen op de getallenlijn tot 30:




Ik kan optellen over de 10:



Ik kan optelsommen over de 10 maken uit verhaaltjes:



schrijf de som op.
hoeveel flessen zijn er samen?



$6 + 8 = 14$
4 4

$3 + 8 =$

trek lijnen.
zet 2 dozen aan de andere kant.

de weegschaal is in balans. gebruik elk gewicht 1 keer.

