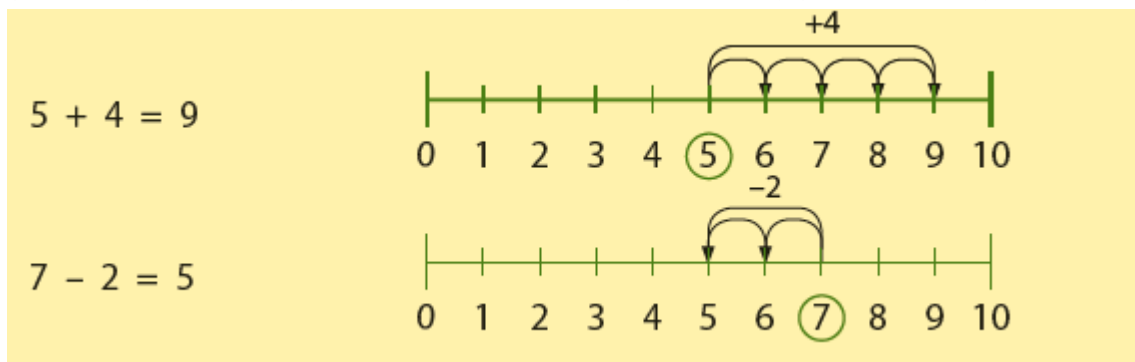


Deze maand leert uw kind:

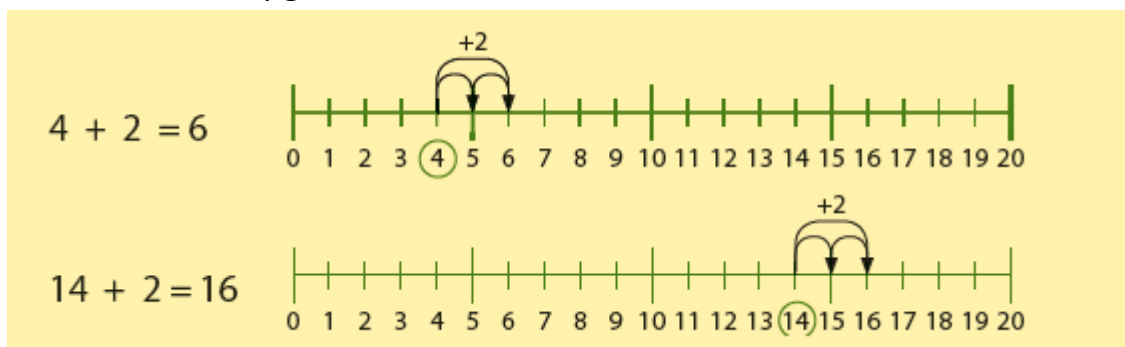
- optellen en aftrekken tot en met 10
- optellen tussen de 10 en de 20, zoals $11 + 3$
- wegen met kilo

In de klas komt aan de orde:

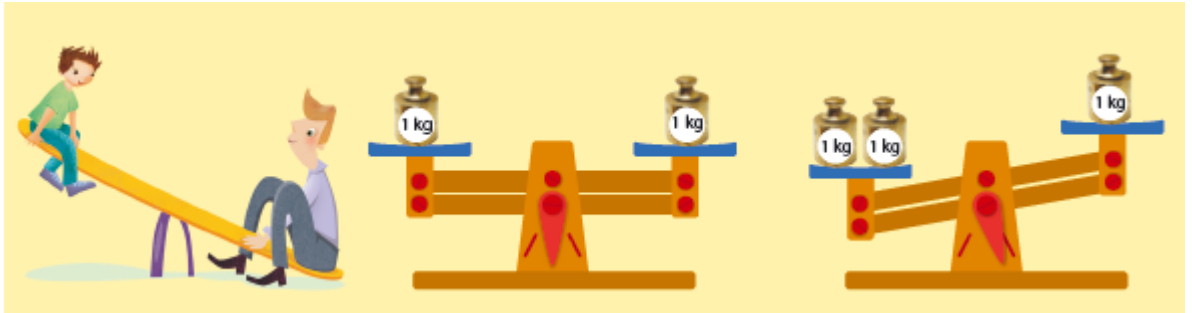
- Kinderen oefen het optellen en aftrekken tot en met 10 door elkaar. De getallenlijn wordt gebruikt om de richting van de opgave aan te geven.



- Het optellen tussen de 10 en de 20 wordt geoefend met de getallenlijn. Ook leren kinderen dat vergelijkbare opgaves kunnen helpen bij het uitrekenen van opgaves tot 20: $4 + 2 = 6$ en $14 + 2 = 16$.



- Kinderen leren wat 1 kilo is en hoe je een balansweegschaal kunt gebruiken.

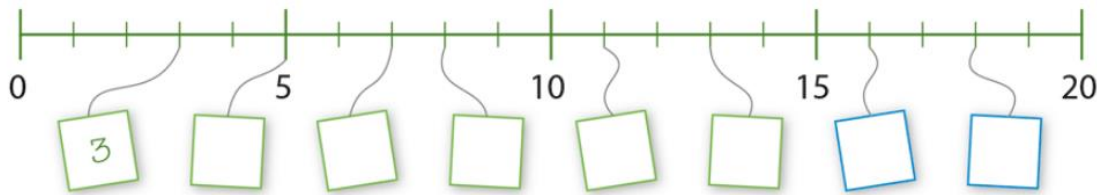


Tips voor thuis

- Oefen met de getallenlijn door het spelen van ‘ganzenbord’ of ‘slangen en ladders’.
- Oefen met wegen door uw kind te laten helpen bij het koken of bakken.

Dit kan ik eind blok 4 groep 3 / Test je zelf.

1 vul in.



2 reken uit.

$1 + 8 = \dots 9 \dots$

$1 + 6 = \dots \dots \dots$

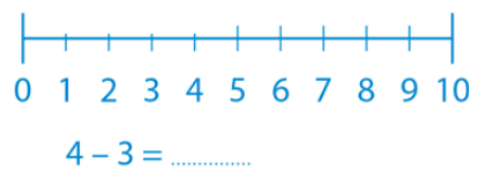
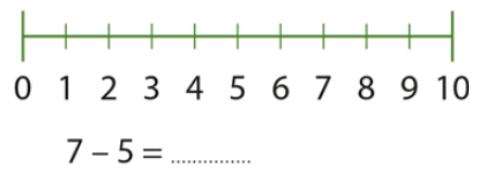
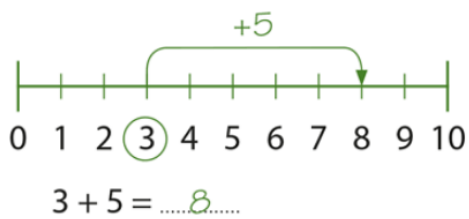
$2 + 5 = \dots \dots \dots$

$2 + 7 = \dots \dots \dots$

$3 + 6 = \dots \dots \dots$

$2 + 8 = \dots \dots \dots$

3 teken de som op de getallenlijn en reken uit.



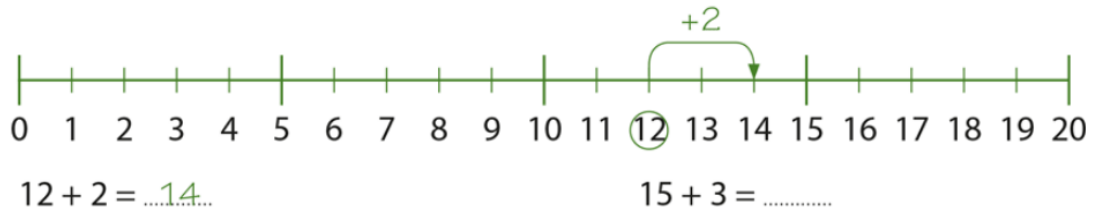
4 schrijf de som bij de plaatjes.
hoeveel lampjes branden?



$\dots + \dots = \dots$

$\dots - \dots = \dots$









5 teken de som op de getallenlijn en reken uit.



6 reken uit.

- | | | |
|------------------------------|------------------------------|------------------------------|
| $16 + 3 = \dots 19 \dots$ | $14 + 3 = \dots \dots \dots$ | $11 + 8 = \dots \dots \dots$ |
| $17 + 1 = \dots \dots \dots$ | $12 + 7 = \dots \dots \dots$ | $15 + 5 = \dots \dots \dots$ |
| $11 + 5 = \dots \dots \dots$ | $13 + 5 = \dots \dots \dots$ | $14 + 2 = \dots \dots \dots$ |

7 schrijf de som bij het plaatje. reken uit.

 <p>15 auto's</p>	+		+	 <p>16 auto's</p>	+		+	<p>..... + =</p>
$\dots 15 \dots + \dots 5 \dots = \dots 20 \dots$								
 <p>12 auto's</p>	+		+	 <p>10 auto's</p>	+		+	<p>..... + =</p>