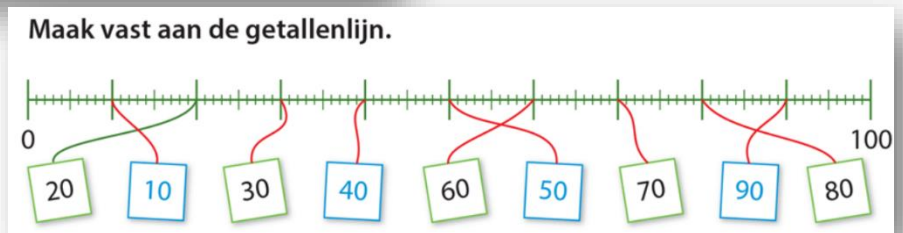
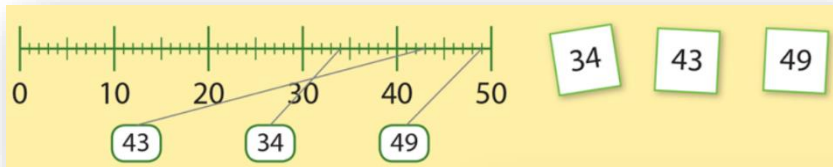
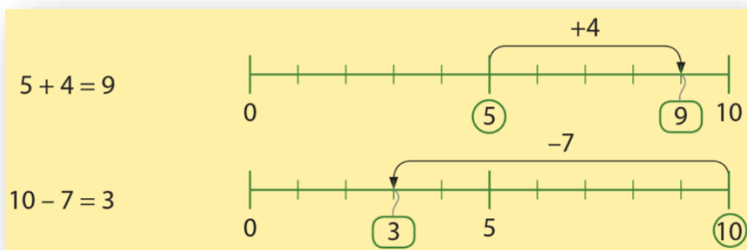


Mijn rekendoelen uit blok 1 van groep 4 week 1

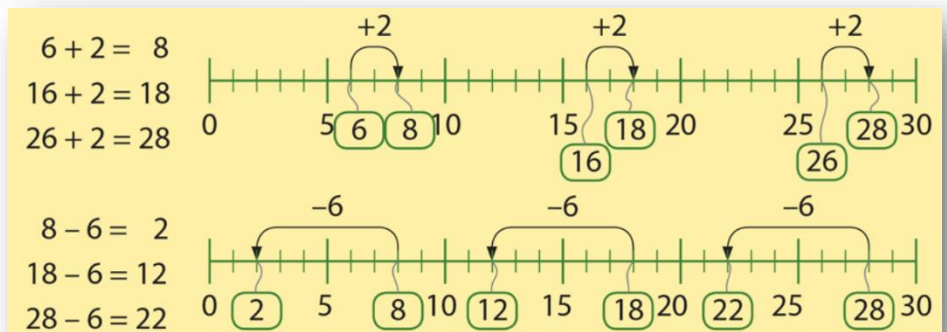
Ik kan getallen plaatsen op de getallenlijn t/m 100:



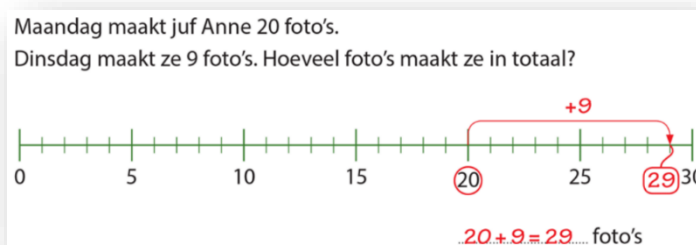
Ik kan snel optellen en aftrekken tot en met 10:



Ik kan optellen en aftrekken tot en met 30



Ik kan optellen en aftrekken vanuit verhaaltjes:



Mijn rekendoelen uit blok 1 van groep 4 week 2

Ik kan met een liniaal de lengte van een lijn opmeten:

Meet de lijnen.

...3... cm
...9... cm
...5... cm
...7... cm
...8... cm

Ik kan rekenen en wegen met kilogrammen:

Vul in hoeveel het weegt.

...10... kg ...15... kg

1 kilogram (kg)

Wat is het verschil in gewicht?

...12 - 2 = 10 kg... ...20 - 8 = 12 kg...

Ik kan de inhoud bepalen met liters:

1 liter In de emmer past 10 liter.

Hoeveel liter is het samen?

...10 + 7 = 17 liter... ...10 + 9 = 19 liter...

Ik kan een plattegrond maken van een blokkenbouwsel:

Maak de plattegrond.

1	1	1
1	1	1

3	1	1
3	1	1

Ik kan een route bepalen:

Teken de route.
Begin bij de stip.

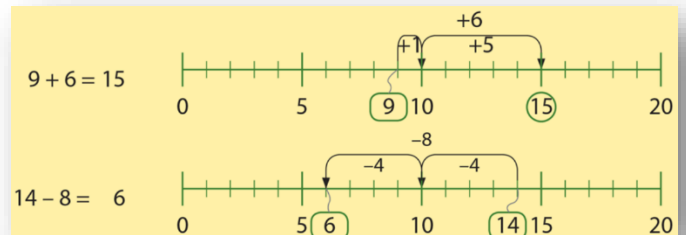
Ik kan een mozaïek spiegelen :

Mijn rekendoelen uit blok 1 van groep 4 week 3

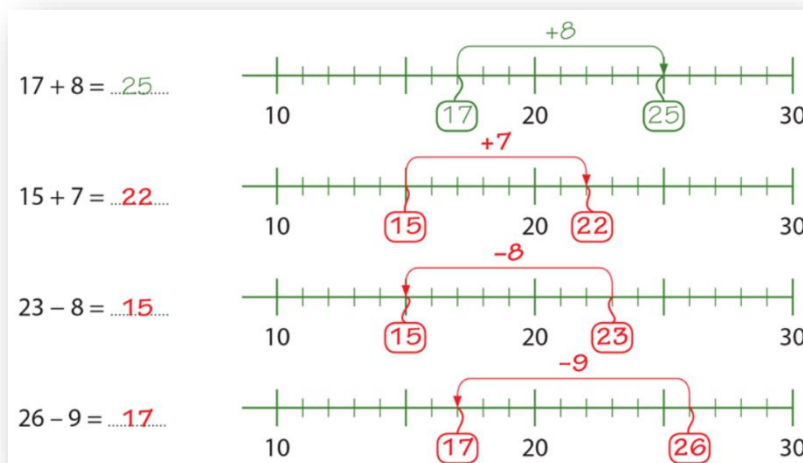
Ik kan aantallen halveren en verdubbelen:

de helft	aantal	het dubbele
●	● ●	● ● ● ●
1	2	4
3	6	12
5	10	20

Ik kan vlot en optellen en aftrekken
tot en met 20:



Ik kan optellen en aftrekken
tot en met 30:



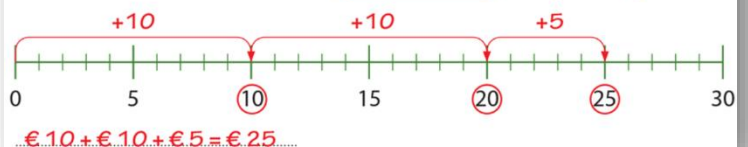
Ik kan sommen maken
die in verhaaltjes staan:



Je koopt	Je moet betalen
de zwemvliezen en de duikbril	€15 + €7 = €22
de boot en de duikbril	€17 + €7 = €24
de vlieger en de badmintonset	€13 + €8 = €21
strandbal, luchtbed en duikbril	€3 + €5 + €7 = €15
de vlieger en de boot	€13 + €17 = €30










Vader huurt twee ligstoelen en één parasol.
Wat moet hij betalen?

Te huur
1 parasol €5
1 ligstoel €10



Mijn rekendoelen uit blok 1 van groep 4 week 4

Ik kan rekenen met geld:

 1 euro = € 1  5 euro = € 5
 2 euro = € 2  10 euro = € 10
 20 euro = € 20
     = € 14

  + € 2 = € 14
   + € 9 = € 18


    - € 8 = € 21
   - € 7 = € 19

Ik kan gepast betalen:

Met zo weinig mogelijk munten en biljetten.

					
 €6			1		1
 €13		1		1	1
 €19		1	1	2	
 €24	1			2	

Ik kan klokkijken met hele en halve uren:

   
06:00 03:30 11:00 07:30

Vul in hoe laat het is.

   
10:30 03:00 00:30 10:00
...4 uur... ...half 5... ...half 12... ...12 uur...
...half 11... ...3 uur... ...half 1... ...10 uur...

Ik kan rekenen met tijd en tijdsduur bepalen:

Reken uit.

De familie Klein wil met de trein naar Maastricht. Ze nemen de trein tussen 8:30 en 10:00 uur. Hoe laat kunnen ze vertrekken?

9 uur.....

Intercity Maastricht
 06:00
 07:00
 08:00
 09:00
 10:00

Hoelang duurde de reis?

03:00 04:00
1..... uur
02:30 06:30
4..... uur

Hoelang duurde de film?

 
1..... uur
 
3..... uur