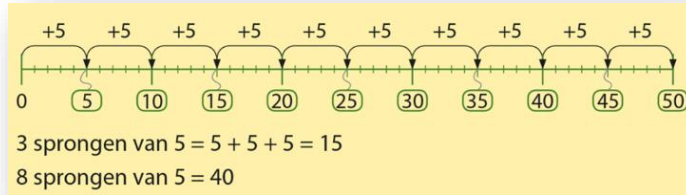


# Mijn rekendoelen voor blok 4 van groep 4.

Ik kan tellen met sprongen van 5:



1 × 5 = 5	Ik ken de tafel van vijf.	6 × 5 = 30
2 × 5 = 10		7 × 5 = 35
3 × 5 = 15		8 × 5 = 40
4 × 5 = 20		9 × 5 = 45
5 × 5 = 25		10 × 5 = 50

Ik kan tafelsommen herkennen in een verhaaltje

In elke bos zitten 5 bloemen. Hoeveel bloemen zitten er in 3 bossen?

Stap 1 Maak de tekening af.

Stap 2 Wat moet je uitrekenen?  $3 \times 5$ .....

Stap 3 Wat is het antwoord?  $3 \times 5 = 15$ .....

Er zitten 15 bloemen in 3 bossen.....

Ik kan de lengte bepalen met een liniaal en kan uitrekenen of aflezen hoeveel liter er nog bij kan

De omtrek van het hoofdje is 40 cm.  
 Het autootje is 7 cm lang.  
 In de emmer zit 9 liter.

Ik kan rekenen met de inhoudsmaten: L, ( liter), dL( deciliter) en cL (centiliter):

6 dL = 60 cL  
 1 L = 10 dL = 100 cL  
 1 dL = 10 cL

1 meter  
 1 m = 10 dm = 100 cm  
 1 dm = 10 cm

1 cm      1 dm      1 m

Ik kan rekenen met de lengtematen: m (meter), dm (decimeter), mm (millimeter):

40 cm = 4 dm      5 dm = 50 cm      3 m = 30 dm

# Mijn rekendoelen voor blok 4 van groep 4.

Ik kan sommen met inhoud en lengte herkennen in een verhaaltje

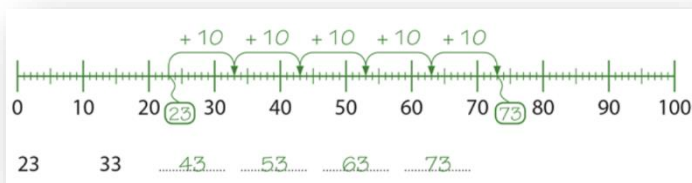
Kelvin schenkt 70 cL water uit een maatbeker van 1 L.  
Hoeveel cL zit er nog in de maatbeker?

Stap 1 Maak de tekening af.  
Stap 2 Wat moet je uitrekenen?

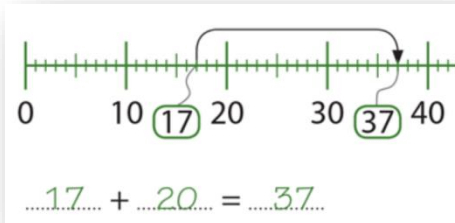
Stap 3 Wat is het antwoord?



Ik kan sprongen maken van 10:



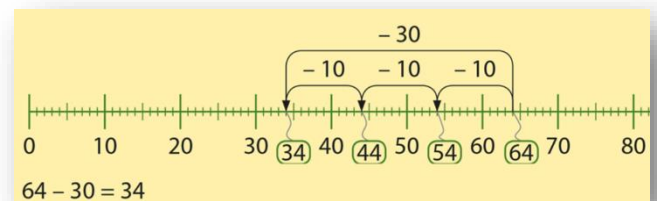
Ik kan getallen bij elkaar optellen zoals  $17 + 20$ :



$$40 + 20 = \dots 60 \dots$$

$$43 + 20 = \dots 63 \dots$$

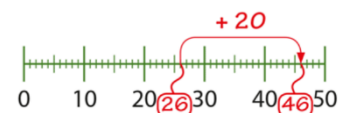
Ik kan getallen van elkaar aftrekken zoals  $64 - 30 =$



Ik kan optel en aftreksommen herkennen in verhaaltjes:

Reken uit.

- a Opa kreeg vorig jaar 26 kaarten.  
Dit jaar krijgt hij er 20 meer.  
Hoeveel verjaardagskaarten krijgt opa?



- Stap 1 Maak de tekening af.  
Stap 2 Wat moet je uitrekenen?  $26 + 20$ .....  
Stap 3 Wat is het antwoord?

Opa krijgt  $26 + 20 = 46$  kaarten.....

- b Hoeveel kaarten kreeg opa dit jaar en vorig jaar in totaal?

Opa kreeg in totaal  $26 + 46 = 72$  kaarten.....

$$€ 53 + \text{20 EURO} = € 73$$

