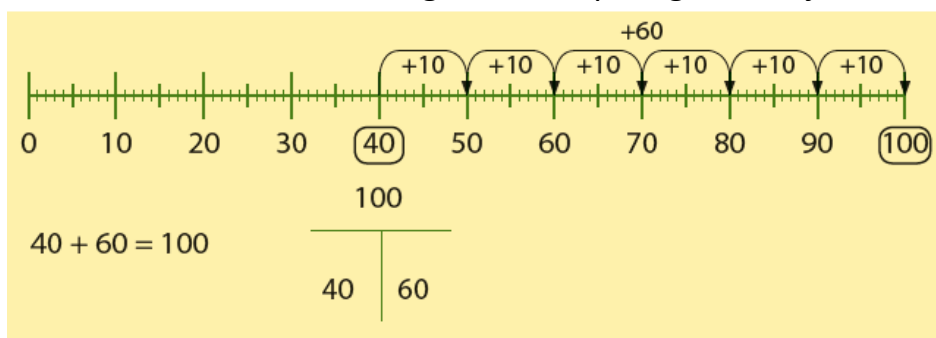


Deze maand leert uw kind:

- Rekenen tot 100 met tientallen
- Klokkijken met kwartieren.
- Optellen en aftrekken vanuit een tiental

In de klas komt het volgende aan de orde:

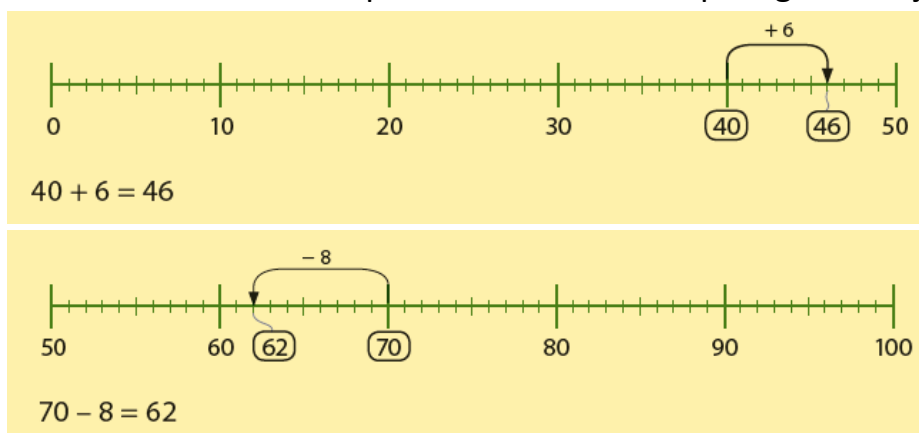
- Het rekenen tot 100 wordt geoefend op de getallenlijn.



- Kinderen oefenen het klokkijken op de analoge klok en op de digitale klok.



- Kinderen oefenen het optellen en aftrekken op de getallenlijn.



Tips voor thuis:

- Oefen het rekenen met tientallen door een tiental te noemen en uw kind te laten bedenken hoeveel erbij moet om tot 100 te komen.
Bijvoorbeeld: uw noemt 30, uw kind noemt 70 want $30 + 70 = 100$.
- Oefen met getallen door te splitsen in tientallen en eenheden. Noem een getal, voor elk tiental maakt het kind een sprong, voor elke eenheid een stap. Bijvoorbeeld: u noemt 56, uw kind maakt 5 sprongen en doet 6 stappen. Draai de rollen ook eens om.
- Oefen het klokkijken door uw kind regelmatig te vragen hoe laat het is op verschillende klokken bijvoorbeeld op een horloge, op de ovenklok of op uw mobiele telefoon.

Dit kan ik eind blok 2 groep 4 / Test je zelf.

1

Vul in.

Maak sprongen van 10 verder en terug.

70	80	90	100	110	120
150	160				
150	140				

2

Reken uit.

$20 + 20 = \dots 40 \dots$

$60 - 30 = \dots$

$80 + 20 = \dots$

$30 + 40 = \dots$

$90 - 60 = \dots$

$80 - 30 = \dots$

3

Reken uit.

$20 + \dots 80 \dots = 100$

$50 + \dots = 100$


$70 + \dots = 100$

$90 + \dots = 100$


4

Vul aan tot 100.

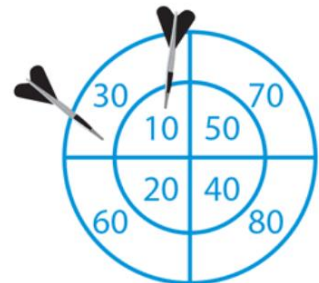
Teken de laatste pijl.



$60 + \dots 40 \dots = 100 \text{ punten}$



$50 + \dots = 100 \text{ punten}$



$30 + 10 + \dots = 100 \text{ punten}$

5 Splits en vul in.

	T	E		T	E		T	E
16	...1...	...6...	58	91
61	85	19

6 Reken uit.

$50 + 6 = \dots 56 \dots$

$54 + 2 = \dots \dots \dots$

$61 + 6 = \dots \dots \dots$

$60 + 2 = \dots \dots \dots$

$64 + 2 = \dots \dots \dots$

$71 + 9 = \dots \dots \dots$

7 Reken uit.

$40 - 2 = \dots 38 \dots$

$45 - 1 = \dots \dots \dots$

$66 - 5 = \dots \dots \dots$

$60 - 4 = \dots \dots \dots$

$55 - 1 = \dots \dots \dots$

$94 - 2 = \dots \dots \dots$

8 Reken uit en vul in.

Hoeveel kost het samen?



ik koop	ik betaal
 	€ 75
 	
  	

9

Vul in.

Papa is op 14 oktober jarig.

Zaineb heeft op
dansles.

De vakantie begint op
oktober.

○ oktober ○	
maandag	13
dinsdag	14 papa jarig
woensdag	15
donderdag	16 dansles
vrijdag	17
zaterdag	18 vakantie
zondag	19 vakantie

10

Vul in hoe laat het is.



kwart.voor.8....



kwart.over.1....



11

Teken en schrijf de tijd in de klokken.

Steeds een kwartier later.

