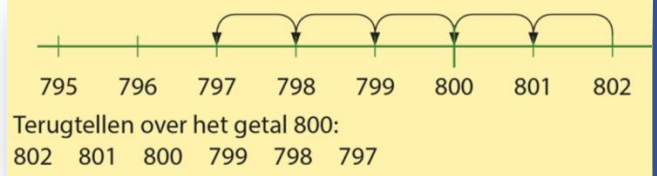


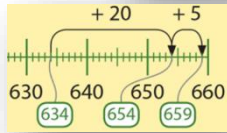
Mijn rekendoelen voor blok 3 van boek 5A.

Ik kan heen en terugtellen over een honderdtal:



$$634 + 25 = 654 + 5 = 659$$

Ik kan optellen en aftrekken met sommen zoals:



$$228 + 18 = 238 + 8 = 246$$

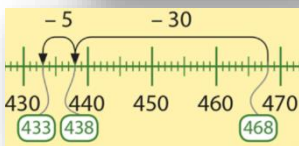


Ik kan optellen en aftrekken met sommen zoals:

$$363 - 44 = 323 - 4 = 319$$



$$468 - 35 = 438 - 5 = 433$$



Dennis fietst een tocht van 57 kilometer. Na de tocht staat zijn kilometerteller op 183 km. Hoeveel kilometer stond er op de teller toen Dennis aan de tocht begon?

Stap 1 Maak een tekening.
Stap 2 Wat moet je uitrekenen?
Stap 3 Wat is je antwoord?
Stap 4 Klopt je antwoord? Laat zien met een berekening.

Ik kan klokkijken op hele uren, halve uren en kwartieren:



: Ik kan klokkijken met 10 minuten voor en 10 minuten over het hele en halve uur.

Ik kan klokkijken met 5 minuten voor en 5 minuten over het hele en halve uur:

Schrijf de digitale tijd en de tijd in woorden.



a 03:05
vijf over drie

b

c

d

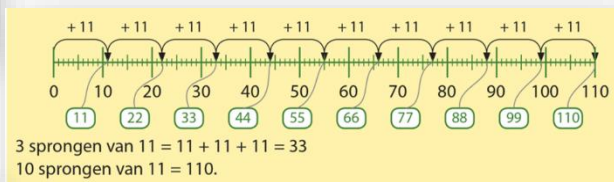
Mijn rekendoelen voor blok 3 van boek 5A.

Ik kan verhaaltjessommen met tijd uitrekenen:

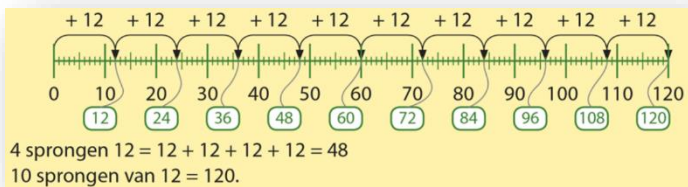
Hoelang duurt de reis van Oisterwijk naar 's-Hertogenbosch?
Hoeveel minuten doet de trein er over van Oisterwijk naar Tilburg?

Treintijden	
V Oisterwijk	10:25
A Tilburg	10:35
V Tilburg	10:45
A 's Hertogenbosch	11:00

Schrijf op hoe je hebt gerekend.
De sportdag duurt van 9:00 tot 12:00.
Er is twee keer een kwartier pauze.
Aan hoeveel onderdelen van 30 minuten kunnen de groepjes deelnemen?



Ik kan sprongen van 11 en 12 maken :



Ik ken de tafels van 11 en 12:

- 1 × 11 = 11
- 2 × 11 = 22
- 3 × 11 = 33
- 4 × 11 = 44
- 5 × 11 = 55

- 6 × 11 = 66
- 7 × 11 = 77
- 8 × 11 = 88
- 9 × 11 = 99
- 10 × 11 = 110

- 1 × 12 = 12
- 2 × 12 = 24
- 3 × 12 = 36
- 4 × 12 = 48
- 5 × 12 = 60

- 6 × 12 = 72
- 7 × 12 = 84
- 8 × 12 = 96
- 9 × 12 = 108
- 10 × 12 = 120



De trainer koopt 7 doosjes tennisballen.
a Hoeveel tennisballen zijn dat?
b Hoeveel moet hij betalen?



: Ik kan verhaaltjessommen uitrekenen waar vermenigvuldigingen in voorkomen.

Reken uit.
Schrijf je berekening op.
Juf koopt schriften voor de klas.
In de klas zitten 24 kinderen en elk kind krijgt 2 schriften.
a Heeft de juf genoeg aan 10 pakken schriften?
b Hoeveel kosten de schriften voor de klas?

