

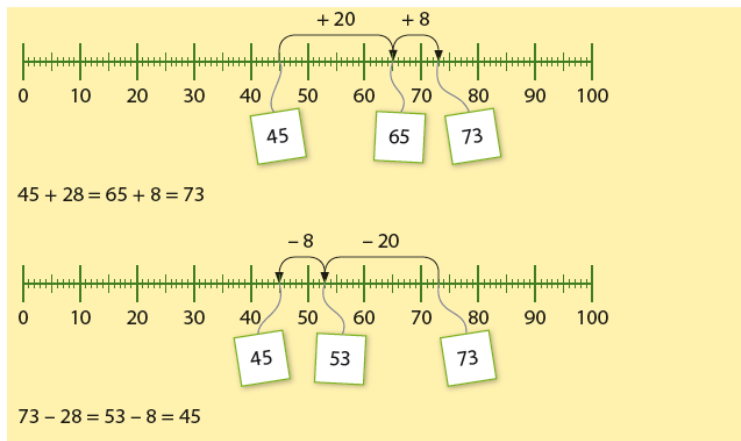
Deze maand worden de vaardigheden uit groep 4 nog eens geoefend.

Uw kind herhaalt:

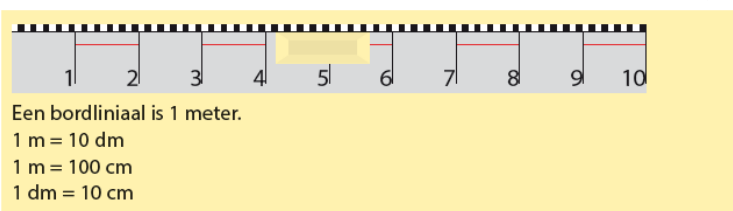
- Optellen en aftrekken tot 100
- Meten en rekenen met lengte, inhoud en gewicht
- De tafels van 1 tot en met 10.
- Klokkijken in hele en halve uren en kwartieren
- Rekenen en betalen met eurocenten

In de klas komt het volgende aan de orde:

- De sommen tot 100 worden geoefend op de getallenlijn.



- Kinderen oefenen met het omrekenen van lengte- en inhoudsmaten.



- Bij de tafels komt het maken van sprongen aan bod. Daarna komen de tafels als losse som aan de orde.

×	1	2	3	4	5	6	7	8	9	10
1	1	2	3	4	5	6	7	8	9	10
2	2	4	6	8	10	12	14	16	18	20
3	3	6	9	12	15	18	21	24	27	30
4	4	8	12	16	20	24	28	32	36	40
5	5	10	15	20	25	30	35	40	45	50
6	6	12	18	24	30	36	42	48	54	60
7	7	14	21	28	35	42	49	56	63	70
8	8	16	24	32	40	48	56	64	72	80
9	9	18	27	36	45	54	63	72	81	90
10	10	20	30	40	50	60	70	80	90	100

- Kinderen oefenen het klokkijken op de analoge klok en op de digitale klok.



- Gepast betalen met eurocentmunten wordt geoefend.



Tips voor thuis

- Oefen met tellen door te tellen met sprongen van 10 of 100. Start bij een willekeurig getal tussen de 0 en de 1000 en probeer samen verder of terug te tellen.
- Oefen met meten door te met met een meetlint te bekijken wat de maten zijn van verschillende lichaamsdelen van verschillende gezinsleden. Wie heeft de langste armen? Wie de kortste voeten? Hoe groot zijn je oren?
- Oefen de tafels door te gooien met twee dobbelstenen. De twee getallen maken de vermenigvuldiging. Wie weet het snelst het antwoord?

Dit kan ik eind blok 1 groep 5 / herhaling uit groep 4

1

Reken uit.

Schrijf de tussenstap op.

$$48 + 27 = 68 + 7 = 75 \quad 77 + 14 =$$
$$36 + 45 = \quad 39 + 25 =$$

$$14 + 57 =$$
$$56 + 28 =$$

2

Reken uit.

Schrijf de tussenstap op.

$$56 - 18 = 46 - 8 = 38 \quad 42 - 25 =$$
$$44 - 27 = \quad 51 - 36 =$$

$$66 - 37 =$$
$$45 - 18 =$$

3

Reken uit.

Een broek kost 63 euro.

Er gaat 15 euro van de prijs af.

Hoeveel kost de broek nu?

Stap 1 Maak een tekening.

Stap 2 Wat moet je uitrekenen?

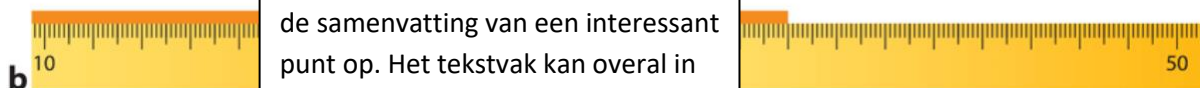
Stap 3 Wat is het antwoord?



4

Schrijf op.

Hoeveel centimeter is elke plank?



[Geef een citaat uit het document of de samenvatting van een interessant punt op. Het tekstvak kan overal in het document worden neergezet. Ga naar het tabblad Hulpmiddelen voor tekenen als u de opmaak van het tekstvak voor het blikvangercitaat wilt wijzigen.]

5

Reken uit.

6 m = 600 cm

3 dm = cm

5 m = cm

7 dm = cm

9 m = cm

10 m = dm

30 m = dm

8 m = cm

40 m = dm

6

Meer of minder dan 1 liter?



a minder



b



c



d

7

Reken uit.

5 L = 500 cL

3 L = cL

1 L = dL

7 L = cL

4 dL = cL

8 dL = cL

6 L = dL

2 dL = cL

5 dL = cL

10 L = cL

90 L = dL

40 dL = cL

1 L = 100 cL


1 L = 10 dL

1 dL = 10 cL



8

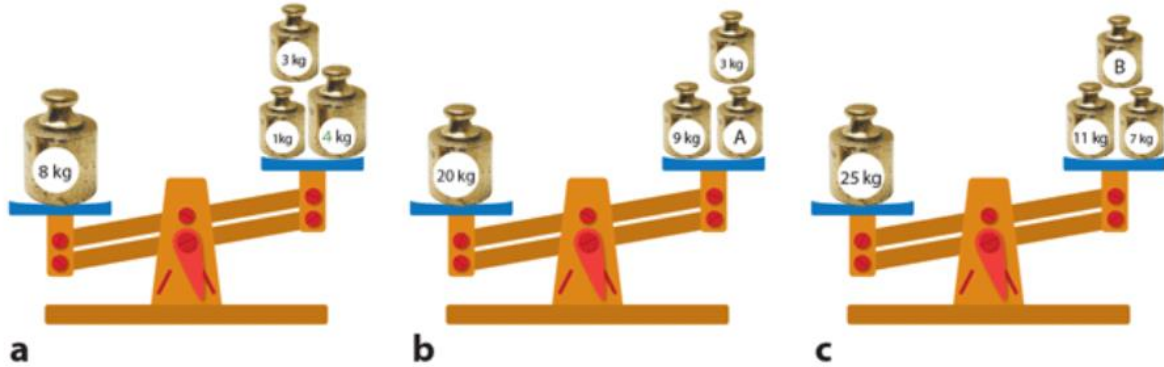
Wat weegt ongeveer 1 kg?



9

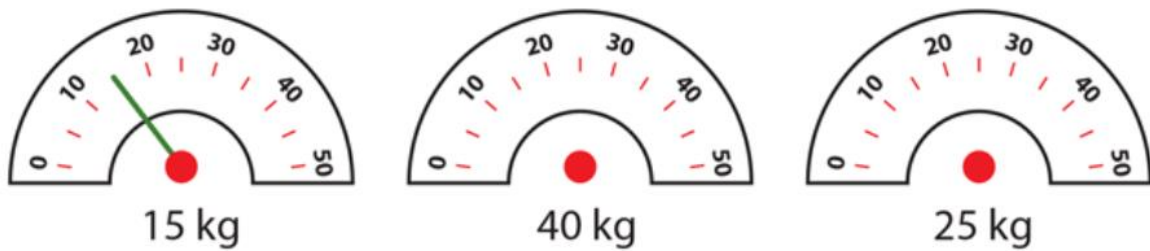
Hoeveel moet erbij?

De balans moet in evenwicht komen.



10

Teken de wijzers.



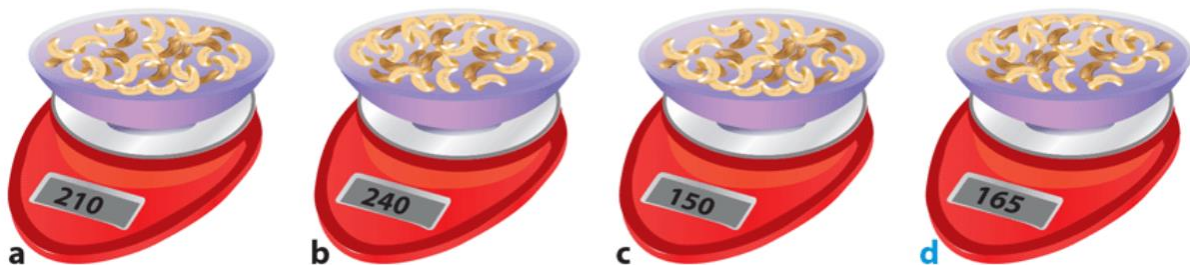
11

Reken uit.

Pia weegt noten af op precies 300 gram.

Hoeveel gram moet zij er nog bij doen?

Schrijf ook de som op.



$$300 - 210 = 90 \text{ gram}$$

12

Reken uit.

$$\begin{aligned}7 \times 3 &= 21 \\9 \times 2 &= \\4 \times 5 &= \\0 \times 6 &= \\10 \times 4 &= \end{aligned}$$

$$\begin{aligned}3 \times 8 &= \\9 \times 7 &= \\6 \times 6 &= \\8 \times 0 &= \\7 \times 4 &= \end{aligned}$$

Als je wilt, mag je de sommen omkeren
 $8 \times 2 = 2 \times 8$



13

Reken uit met het stappenplan.

In één karretje passen 6 kinderen.

- Hoeveel kinderen kunnen er tegelijk in deze achtbaan?
- Er worden in de rij 2 karretjes bij geplaatst.
Hoeveel kinderen kunnen nu mee?



14

Schrijf de digitale tijd op.

half vier → 03:30

kwart over drie →

zes uur →

half twaalf →

kwart voor een →

twee uur →

kwart over zeven →

half twee →

15

Schrijf de tijd in woorden.



a kwart over 10



b



c



d

16

Vul in.

Vandaag is het

Gisteren was het

Eergisteren was het

De vorige maand was

Morgen is het

Overmorgen is het

Het weekend is en

.....

De volgende maand is

17

Betaal gepast met zo weinig mogelijk munten.

	50	20	10	5	2	1
67 cent	1		1	1	1	
95 cent						
16 cent						

18

Reken uit met het stappenplan.

Charlot koopt 6 flessen frisdrank voor een feest. Hoeveel is zij goedkoper uit als zij een sixpack koopt voor 10 euro?

Stap 1 Maak een tekening.

Stap 2 Wat moet je uitrekenen?

Stap 3 Wat is het antwoord?

