

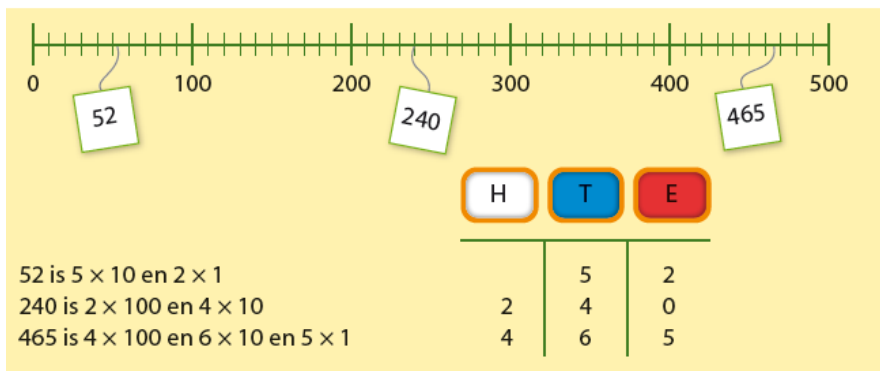
Deze maand leert uw kind:

Getalstructuur van getallen tot 1000

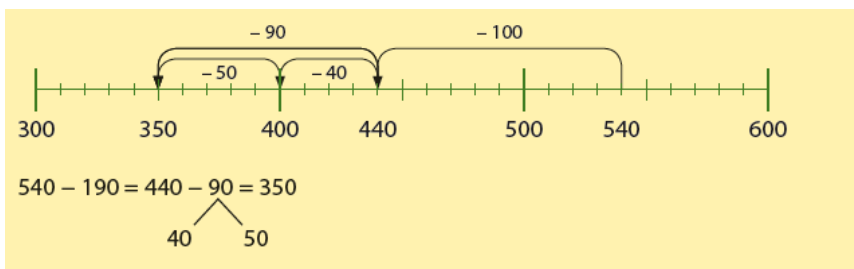
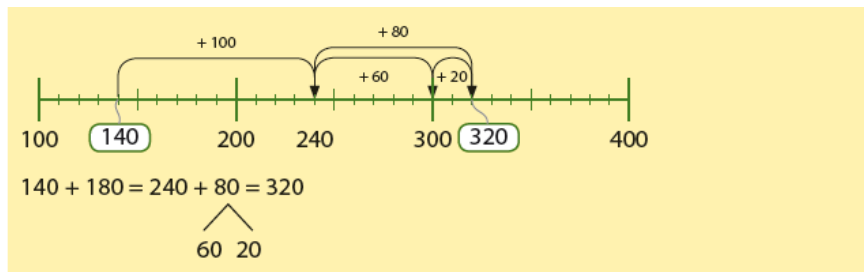
- Optellen en aftrekken tot 1000 met honderdtallen en tientallen
- Betalen met de eurobiljetten

In de klas komt het volgende aan de orde:

Getallen tot 1000 worden gesplitst in honderdtallen, tientallen en eenheden.



- Het rekenen tot 1000 wordt geoefend op de getallenlijn.



- Kinderen oefenen gepast betalen van bedragen tot €1000 met eurobiljetten.

Om met zo weinig mogelijk geldstukken te betalen, begin je met het grootst mogelijke geldstuk.

$€ 655 = € 500 + € 100 + € 50 + € 5$



Tips voor thuis:

- Oefen met getallen door te gooien met drie dobbelstenen. Maak een zo groot mogelijk getal met de drie getallen die gegooid zijn en schrijf het getal op. Wissel van beurt. Wie het grootste getal heeft gegooid wint. Speel het spel ook eens door een zo klein mogelijk getal te maken.
- Oefen met geld door samen op zoek te gaan naar grote bedragen in bijvoorbeeld reclamefolders. Welk bedrag staat er? Bij welk honderdtal ligt het bedrag in de buurt? Met welke briefjes zou je dat kunnen betalen?
- Oefenen met optellen en aftrekken door naar het honderdtal te rekenen. Noem een getal en laat uw kind bedenken hoeveel erbij of eraf moet om bij het honderdtal te komen. Bijvoorbeeld rekenen naar de 200: uw noemt het getal 240, uw kind noemt 40, want $240 - 40 = 200$ of u noemt het getal 160, uw kind noemt 40 want $160 + 40 = 200$. Hetzelfde kan gedaan worden met andere honderdtallen tot 1000.

Dit kan ik eind blok 2 groep 5 / Test je zelf

1

Vul in.

$140 = 1 \times 100 \text{ en } 4 \times 10$

$560 =$

$330 =$

$890 =$

$421 =$

$256 =$

$803 =$

$716 =$

2

Vul in.

Hoeveel is de 4 waard in: Hoeveel is de 3 waard in: Hoeveel is de 1 waard in:

475

730

821

845

123

917

784

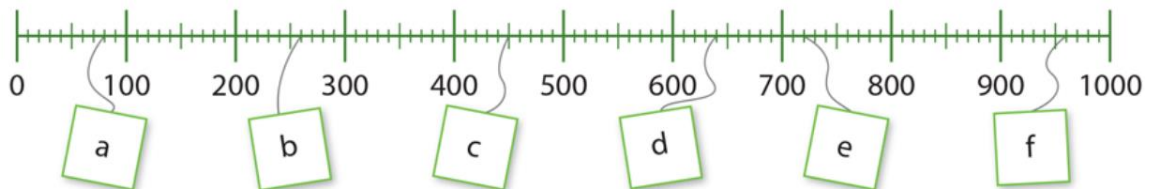
305

199

3

Schrijf op.

Welke getallen horen op de kaartjes?



4

Reken uit.

$240 + 30 =$

$530 + 260 =$

$380 + 520 =$

$570 - 40 =$

$480 - 150 =$

$740 - 440 =$

5

Reken uit.

$370 + 50 =$

$640 + 270 =$

$680 + 240 =$

$750 - 60 =$

$330 - 150 =$

$210 - 130 =$

6






Reken uit.

- a Jaïr spaart 550 euro en geeft 240 euro uit.
Hoeveel heeft hij nog over?
- b Er is 450 gram appelmoes. Emma eet 160 gram op.
Hoeveel is er over?

7

Vul in.

Betaal gepast het afgeronde bedrag.
Gebruik zo weinig mogelijk munten.

bedrag					
43 cent					
92 cent					
128 cent					

8

Reken uit.

Wissel het geld om.

$$€ 150 = \dots \times € 50$$

$$€ 400 = \dots \times € 100$$

$$€ 800 = \dots \times € 200$$

$$€ 210 = \dots \times € 200 \text{ en } \dots \times € 10$$

$$€ 350 = \dots \times € 100 \text{ en } \dots \times € 50$$

$$€ 430 = \dots \times € 200 \text{ en } \dots \times € 10$$

9

Reken uit.

Hoeveel krijg je terug?

Het kost	Je betaalt	Je krijgt terug			
					
€ 450	€ 500				
€ 320	€ 400				
€ 80	€ 200				