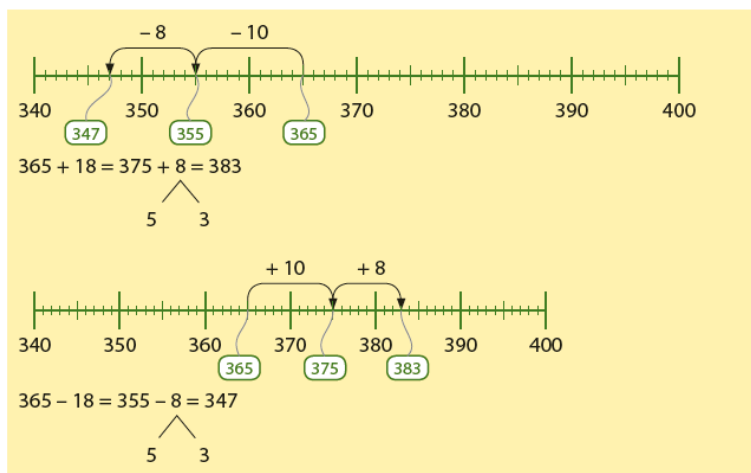


Deze maand leert uw kind:

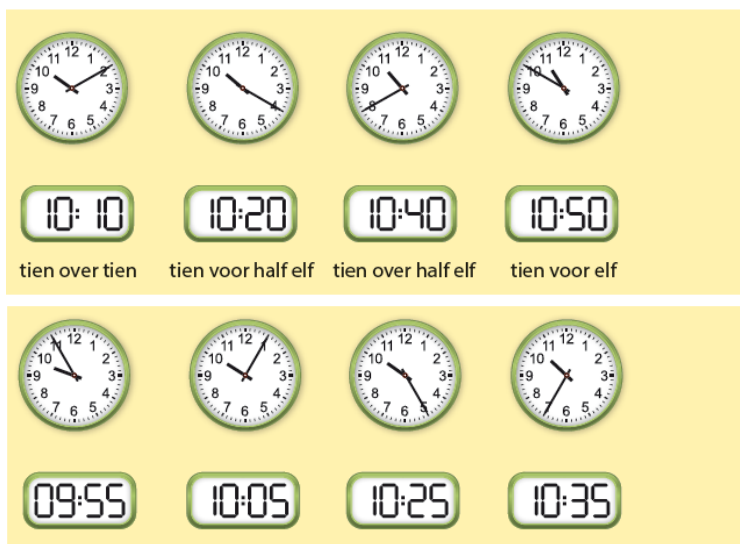
- Optellen en aftrekken tot 1000
- Klokkijken met 5 en 10 minuten voor en over de hele en halve uren
- De tafels van 11 en 12

In de klas komt het volgende aan de orde:

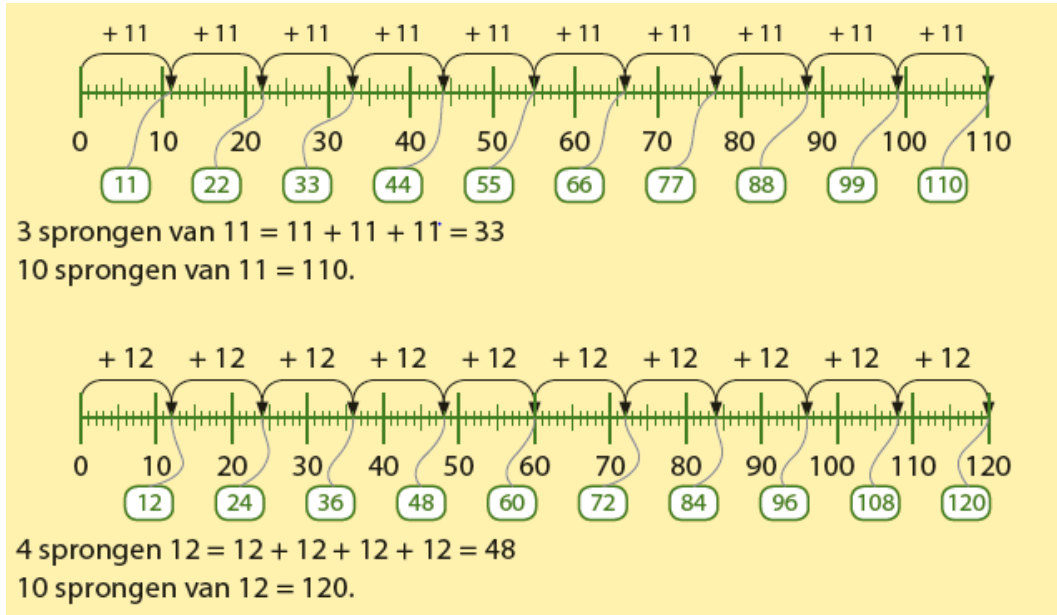
- Het rekenen tot 1000 wordt geoefend op de getallenlijn.



- Het klokkijken wordt geoefend op de analoge klok en op de digitale klok.



- Kinderen oefenen de tafels eerst op de getallenlijn. Daarna komen de tafelrytjes aan bod.



$1 \times 11 = 11$	$6 \times 11 = 66$
$2 \times 11 = 22$	$7 \times 11 = 77$
$3 \times 11 = 33$	$8 \times 11 = 88$
$4 \times 11 = 44$	$9 \times 11 = 99$
$5 \times 11 = 55$	$10 \times 11 = 110$

$1 \times 12 = 12$	$6 \times 12 = 72$
$2 \times 12 = 24$	$7 \times 12 = 84$
$3 \times 12 = 36$	$8 \times 12 = 96$
$4 \times 12 = 48$	$9 \times 12 = 108$
$5 \times 12 = 60$	$10 \times 12 = 120$

Tips voor thuis:

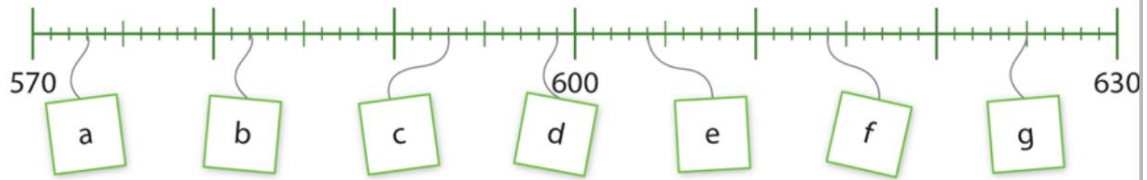
- Oefen het optellen en aftrekken door met drie dobbelstenen te gooien. Spreek van te voren af welke dobbelsteen gebruikt wordt voor de honderdtallen, welke voor de tientallen en welke voor de eenheden. Gooi met de dobbelstenen, en kijk samen welk getal er gegooid is. Tel vervolgens verder of terug vanaf dat getal.
- Oefen het klokkijken door uw kind regelmatig te vragen hoe laat het is.
- Oefen de tafel van 11 en 12 door deze samen hard op te zeggen. Maak bij elke uitkomst een beweging. Bijvoorbeeld: $1 \times 11 = 11$ (klap), $2 \times 11 = 22$ (spring), $3 \times 11 = 33$ (arm omhoog), enz. Doe hetzelfde met de tafel van 12.

Dit kan ik eind blok 3 groep 5 / Test je zelf

1

Schrijf op.

Welke getallen horen op de kaartjes?



2

Reken uit.

$343 + 25 =$

$448 + 32 =$

$862 + 35 =$

3

Reken uit.

$357 - 34 =$

$549 - 27 =$

$563 - 42 =$

4

Reken uit.

$246 + 35 =$

$554 + 27 =$

$574 + 18 =$

5

Reken uit.

$435 - 17 =$

$667 - 38 =$

$553 - 35 =$

6

Reken uit.

Mika koopt een tablet van 375 euro. Bij de kassa gaat er 59 euro van de prijs af.

Hoeveel moet Mika betalen?

7

Reken uit.

$2 \times 11 =$

$3 \times 11 =$

$7 \times 11 =$

$4 \times 11 =$

$10 \times 11 =$

$5 \times 11 =$

$8 \times 11 =$

$6 \times 11 =$

$9 \times 11 =$

8

Reken uit.

$4 \times 12 =$

$7 \times 12 =$

$8 \times 12 =$

$6 \times 12 =$

$2 \times 12 =$

$3 \times 12 =$

$10 \times 12 =$

$5 \times 12 =$

$9 \times 12 =$

9

Reken uit.

Voor de sportdag van de middenbouw worden alle klassen verdeeld in groepjes van 12 kinderen. In totaal zijn er 6 groepjes. Uit hoeveel kinderen bestaat de middenbouw?

10

Hoe laat is het?

Schrijf de tijd in woorden.



a



b



c



d

11

Teken de wijzers in de klokken en schrijf de digitale tijden op.



vijf over acht



tien voor half drie



tien voor 6



vijf over half 2

12

Reken uit.

Hoelang duurt de treinreis van Woerden naar Amersfoort?

Treintijden

V Woerden	06:40
A Utrecht CS	06:55
V Utrecht CS	07:05
A Amersfoort	07:20