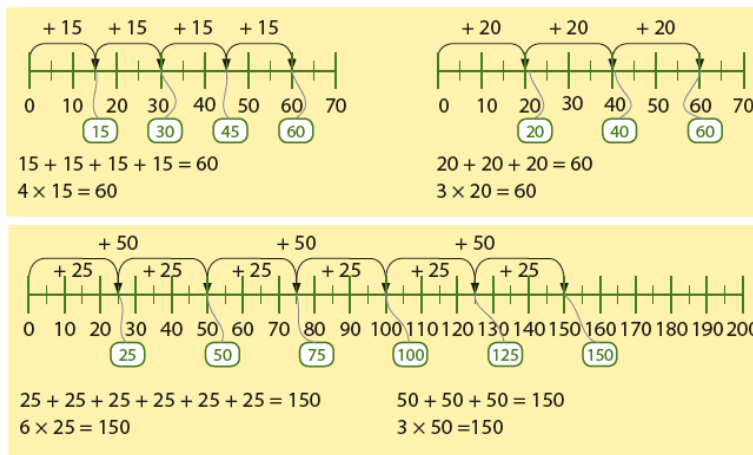


Deze maand leert uw kind:

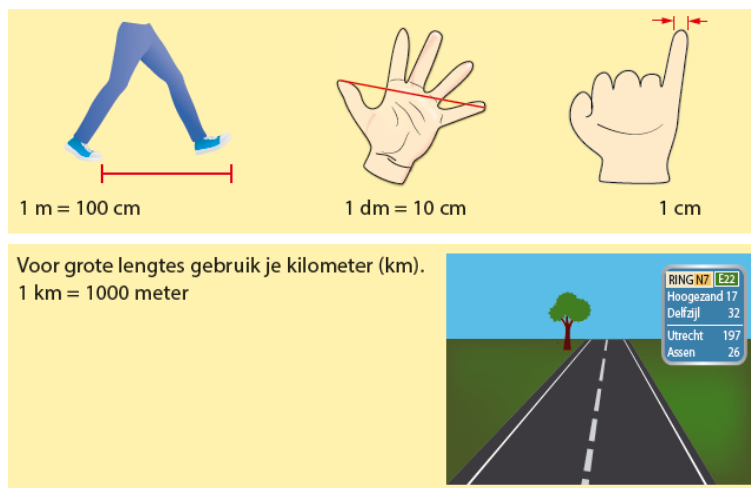
- De tafels van 15 en 20 en 25 en 50
- Lengtematen omrekenen
- Optellen en aftrekken tot 1000


In de klas komt het volgende aan de orde:

- Kinderen oefenen de tafels eerst op de getallenlijn. Daarna komen de tafelrijtjes aan bod.



- Kinderen oefenen met de referentiematen voor lengte. Ze leren lengtematen omrekenen aan de hand van het metriekstelsel.

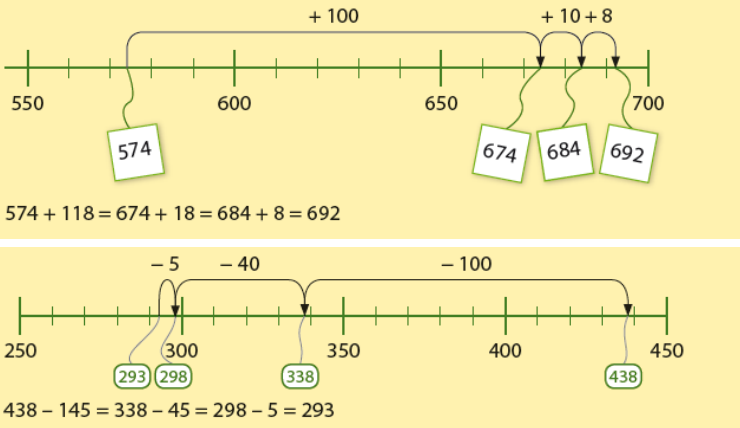




1 cm (centimeter) = 10 mm (millimeter)
 Voor het omrekenen van lengtematen gebruik je dit schema.

$\times 10$ $\times 10$ $\times 10$
 m dm cm mm
 5 m = 50 dm 3 dm = 30 cm 9 cm = 90 mm

- Het optellen en aftrekken wordt geoefend op de getallenlijn.



$+ 100$ $+ 10 + 8$
 550 600 650 700
 574 674 684 692
 $574 + 118 = 674 + 18 = 684 + 8 = 692$

$- 5$ $- 40$ $- 100$
 250 300 350 400 450
 293 298 338 438
 $438 - 145 = 338 - 45 = 298 - 5 = 293$

Tips voor thuis:

- Oefen de tafels door samen te tellen in sprongen van 15, 20, 25 of 50. Maak bij elke tel ook een sprong. Lukt het ook om de tafel-rijtjes samen op te zeggen?
- Oefen met maten door verschillende voorwerpen te meten met lichaamsmaten. Hoeveel pinken (centimeter) is de tafel? En hoeveel handen (decimeter)? Wijs uw kind bij het rijden op de snelweg op de borden langs de kant van de weg. Hoeveel kilometer is het nog rijden?
- Oefen met tellen en getallen door vanaf een bepaald getal verder te tellen met sprongen van honderd, tien of één.

Dit kan ik eind blok 4 groep 5 / Test je zelf.

1

Welk getal ligt precies in het midden?

20 en 30

30 en 50

100 en 120

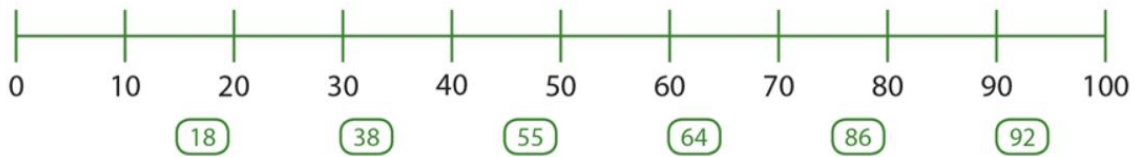
300 en 400

420 en 500

600 en 660

2

Maak het kaartje vast aan de getallenlijn.



3

Reken uit.

$3 \times 15 =$

$6 \times 15 =$

$6 \times 25 =$

$9 \times 25 =$

$1 \times 20 =$

$4 \times 20 =$

$5 \times 50 =$

$8 \times 50 =$

$9 \times 15 =$

$8 \times 25 =$

$8 \times 15 =$

$9 \times 25 =$

4

Reken uit.

$312 + 421 =$

$175 + 418 =$

$373 + 283 =$

$274 + 441 =$

5

Reken uit.

$527 - 202 =$

$836 - 224 =$

$479 - 199 =$

$622 - 481 =$

6

Reken uit.

Lina heeft 215 euro bij zich.

Ze koopt een nieuwe jas voor 133 euro.

Hoeveel geld houdt Lina over?

7

Vul in.

Kies uit: mm – cm – dm – m – km.

Een stoeptegél is ongeveer 3 breed.

Een springtouw is ongeveer 4 lang.

De afstand van Utrecht naar Groningen is ongeveer 190

Je potlood is ongeveer 2 lang.

Je tafel op school is ongeveer 1 breed.

10 blaadjes papier zijn ongeveer 1 dik.

8

Vul in.

8 dm = cm

50 cm = mm

6 m = cm

9 cm = mm

5 m = dm

9 dm = cm

9

Reken uit.

Bereken de afstand van Arnhem naar Leeuwarden.

15



10

Reken uit.

Emma woont 3 km van school.

Hoeveel meter is dat?

11

Reken uit.

De tafel van Mirjam is 76 cm hoog.

Hoeveel mm is dat?