

Deze maand leert uw kind:

- Cijferend vermenigvuldigen en delen.
- Aanzichten en bouwplaten

In de klas komt aan de orde:

- Bij het cijferend vermenigvuldigen leren kinderen twee getallen onder de 100 met elkaar te vermenigvuldigen.

$43 \times 68 \approx 40 \times 70 = 2800$

					3
					2
				6	8
			4	3	
			2	0	4
			2	7	2
			2	9	2
					4

Eerst 3×68 uitrekenen

Dan 4 tientallen $\times 68$ uitrekenen. Schrijf een 0 op voor het tiental.

Tel dan de antwoorden op:
 $204 + 2720 = 2924$

$43 \times 68 = 2924$. Het antwoord ligt in de buurt van de schatting.

- De kinderen leren cijferend delen van een getal tot 1000 door een getal tot 100.

$963 : 18 \approx 1000 : 20 = 50$

9	6	3	:	1	8	=	5	3	r	e	s	t	9
9	0	0					5	0					
	6	3											
	5	4					3						
		9											

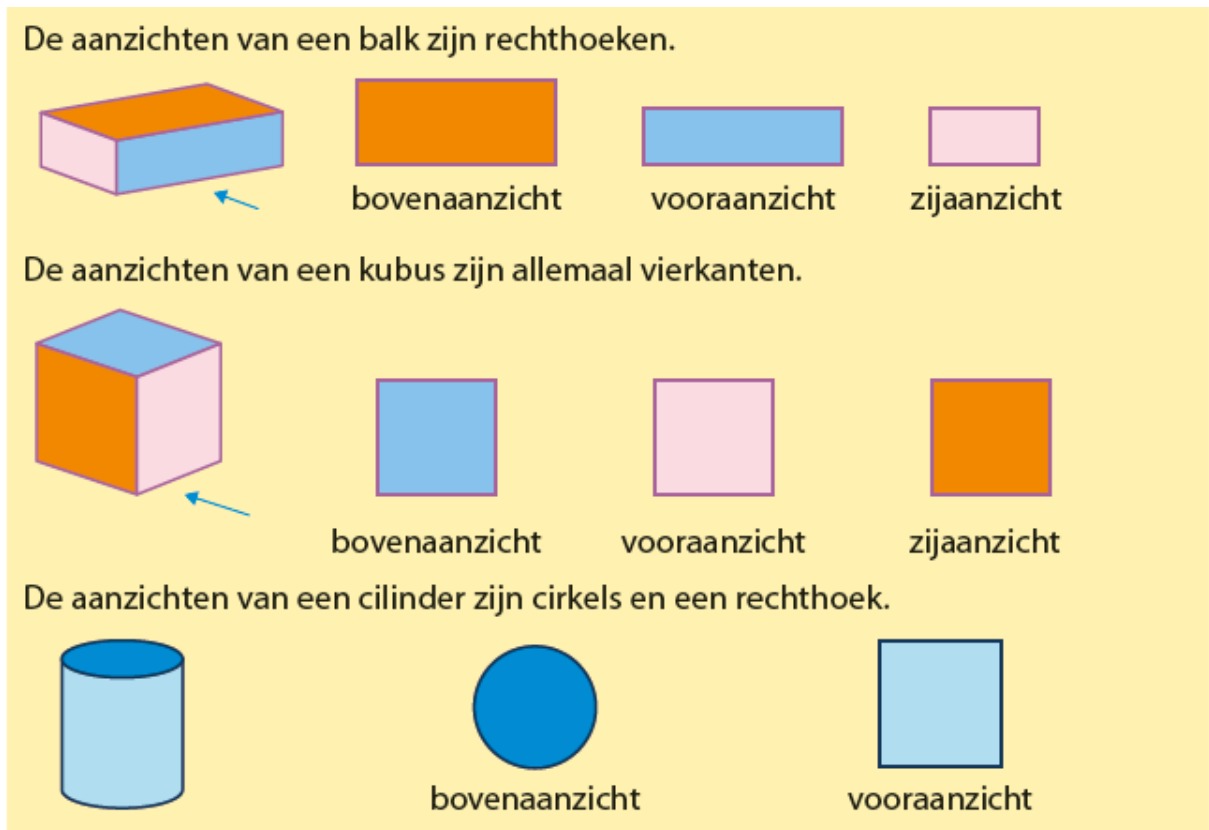
9 honderdtallen : 18 gaat niet.

96 tientallen : 18 gaat 5 keer. Schrijf 50 (5 tientallen) op. $50 \times 18 = 900$. Zet 900 onder 963 en trek af.

63 eenheden : 18 gaat 3 keer. Schrijf 3 op. $3 \times 18 = 54$. Zet 54 onder 63 en trek af.

$963 : 18 = 53 \text{ rest } 9$. De uitkomst ligt in de buurt van de schatting.

- Kinderen leren de verschillende aanzichten van ruimtelijke figuren.



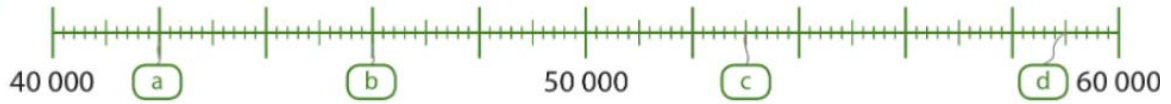
Tips voor thuis:

- Laat uw kind zijn moeilijkste tafels en deeltafels op losse papiertjes schrijven. Pak af en toe dit stapeltje erbij en vraag uw kind naar de antwoorden. Zijn er sommen die na een tijdje niet meer moeilijk zijn?
- Zoek op google een 'bouwplaat voor groep 6' en knutsel deze samen in elkaar. Bespreek samen wat de voorkant, achterkant en zijkant van het bouwwerk is. Lukt het ook om zelf een bouwplaat te bedenken en in elkaar te knutselen?

Dit kan ik eind blok 7 groep 6 / Test jezelf.

1

Vul in.



2

Schrijf op.

Wat is de waarde van de cijfers?

€ 25.341

2 → $2 \times € 10.000$

5 → ... x € ...

3 →

4 →

1 →

39 075

3 → $3 \times 10\,000$

9 →

0 →

7 →

5 →

3

Zet onder elkaar en reken uit.

Maak eerst een schatting.

$7 \times 45 =$ $25 \times 43 =$

4

Reken cijferend uit.

Maak eerst een schatting.

$519 : 3 =$

$763 : 5 =$

$585 : 15 =$

5

Reken uit met het stappenplan.

De tegels op het terras zijn vierkant en 25 cm lang.

Wat zijn de afmetingen van het terras in cm?



6

Reken uit met het stappenplan.

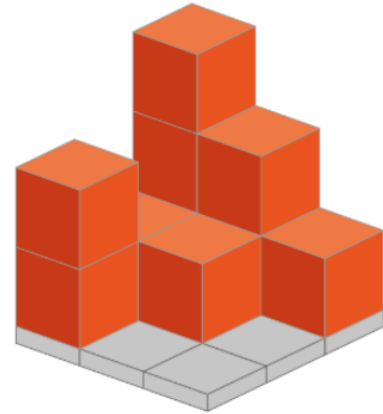
In een bioscoopzaal is plaats voor 128 kijkers.
Er staan 8 stoelen naast elkaar.
Hoeveel rijen stoelen zijn er?

7

Teken de aanzichten.

Hiernaast zie je een blokkenbouwsel.

- a Teken het bovenaanzicht.
- b Teken het linker zijaanzicht.



8

Maak de zinnen af.

- a De aanzichten van een balk zijn allemaal
- b De aanzichten van een zijn allemaal vierkant.
- c Het bovenaanzicht van een cilinder is een

9

Maak de bouwplaat af.

- a Van welke figuur is dit de bouwplaat?
- b Geef tegenoverliggende zijden dezelfde kleur.

